


Roll No. _____



Time allowed: 3 Hours

Max.Marks100

Note

- 1) Attempt all the questions and part of a question must be attempted continuously at one place.
- 2) Rough work should be done on the space provided for in the answer sheet at Page-2.
- 3) Missing data, if any, be assumed but must be indicated specifically in the answer.

Ministerial Exam
Paper-I
(Works Accounts)

- Q.1 (a) Describe expenditure and project identification survey and feasibility studies?
- (b) Describe general frame work for charging depreciation ?
- (ੳ) ਪ੍ਰੋਜੈਕਟ ਆਈਡੈਂਟੀਫਿਕੇਸ਼ਨ ਸਰਵੇ ਅਤੇ ਫਿਜੀਬਿਲਟੀ ਸਟਡੀਜ਼ ਦੇ ਹੋਣ ਵਾਲੇ ਖਰਚਿਆਂ ਦਾ ਵਿਸਥਾਰਪੂਰਵਕ ਵੇਰਵਾ ਦਿੱਤਾ ਜਾਵੇ ?
- (ਅ) ਘਿਸਾਈ ਦੇ ਖਰਚੇ ਕਿਵੇਂ ਚਾਰਜ ਕੀਤੇ ਜਾਂਦੇ ਹਨ ਬਾਬਤ ਡਿਟੇਲ ਨੋਟ ਬਣਾਓ ?

(10+10=20)

- Q.2 (a) What is the procedure of rectification of error in the cash book?
- (b) What procedure is to be followed for the safe custody of keys of cash chest?
- (ੳ) ਕੈਸ਼ ਬੁੱਕ ਵਿੱਚ ਹੋਈ ਗਲਤੀ ਨੂੰ ਕਿਵੇਂ ਸੁਧਾਰਿਆ ਜਾ ਸਕਦਾ ਹੈ ਬਾਬਤ ਨੋਟ ਲਿਖੋ ?
- (ਅ) ਕੈਸ਼ ਚੈਸਟ ਦੀਆਂ ਚਾਬੀਆਂ ਦੀ ਸਾਂਭ ਸੰਭਾਲ ਬਾਬਤ ਵਿਸਥਾਰ ਪੂਰਵਕ ਵਰਨਣ ਕੀਤਾ ਜਾਵੇ ?

(10+10=20)

- Q.3 (a) What is the procedure for maintenance of Inter Unit Transfers (IUT) Subsidiary Ledger?
- (b) What is the procedure for record and custody of U-Cheque Book?
- (ੳ) ਅੰਤਰ ਯੂਨਿਟ ਟਰਾਂਸਫਰ ਦੀ ਸਬਸਿਡੀਅਰੀ ਲੈਜਰ ਦੀ ਸਾਂਭ ਸੰਭਾਲ ਬਾਰੇ ਨੋਟ ਲਿਖੋ ?
- (ਅ) ਯੂ ਚੈਕ ਕੈਸ਼ ਬੁੱਕ ਦੀ ਸਾਂਭ ਸੰਭਾਲ ਬਾਰੇ ਨੋਟ ਲਿਖੋ ?

(10+10=20)

2

Q.4 What is the procedure for advance payment of Traveling Allowance to the employees. Also describe the authorities competent to allow advance traveling allowance ?

ਕਰਮਚਾਰੀਆਂ ਨੂੰ ਪੇਸ਼ਗੀ ਸਫ਼ਰੀ ਭੱਤਾ ਦੇਣ ਬਾਰੇ ਨੋਟ ਲਿਖੋ ਅਤੇ ਇਹ ਵੀ ਲਿਖੋ ਕਿ ਇਸ ਪੇਸ਼ਗੀ ਨੂੰ ਦੇਣ ਲਈ ਸਮਰੱਥ ਅਧਿਕਾਰੀ ਕੌਣ ਹਨ ?

(20 Marks)

Q.5 (a) What procedure is to be followed for maintenance of Initial Works Register ?

(b) Give correct nomenclature to the following Account Codes ?

I. 14.630

II. 24.501

III. 46.941

IV 57.120

V. 76.132

(ੳ) ਮੁੱਢਲੇ ਕਾਰਜਾਂ ਦੇ ਰਜਿਸਟਰ ਦੀ ਸਾਂਭ ਸੰਭਾਲ ਬਾਬਤ ਨੋਟ ਲਿਖਿਆ ਜਾਵੇ ?

(ਅ) ਹੇਠ ਲਿਖੀਆਂ ਮੱਦਾਂ ਦੇ ਸਹੀ ਮੰਤਵ ਦੱਸੋ ਜਾਣ ?

I. 14.630

II. 24.501

III. 46.941


IV 57.120

V. 76.132

(10+10=20)

3

Roll No. _____



Time allowed: 3 Hours

Max.Marks100

Note

- 1) Attempt all the questions and part of a question must be attempted continuously at one place.
- 2) Rough work should be done on the space provided for in the answer sheet at Page-2.
- 3) Missing data, if any, be assumed but must be indicated specifically in the answer.

①

Q.1 a) Please write down the rules regarding the retirement age of different categories of employees of PSPCL

b) What are the rules regarding the grant of annual increment and premature increment of PSPCL employees.

10+10

ਉ) ਪੀ.ਐਸ.ਪੀ.ਸੀ.ਐਲ. ਵਿਚ ਕੰਮ ਕਰਦੇ ਵੱਖ ਵੱਖ ਕੈਟਾਗਰੀ ਦੇ ਕਰਮਚਾਰੀਆਂ ਦੀ ਸੇਵਾ ਨਵਿਰਤੀ ਦੀ ਉਮਰ ਦੇ ਸਬੰਧ ਵਿਚ ਹਦਾਇਤਾਂ ਦੀ ਜਾਣਕਾਰੀ ਦਿਓ।

ਅ) ਪੀ.ਐਸ.ਪੀ.ਸੀ.ਐਲ. ਦੇ ਕਰਮਚਾਰੀਆਂ ਨੂੰ ਸਲਾਨਾ ਤਰੱਕੀ ਅਤੇ ਸਮੇਂ ਤੋਂ ਪਹਿਲਾਂ ਤਰੱਕੀ ਮੰਨਚੂਰ ਕਰਨ ਸਬੰਧੀ ਹਦਾਇਤਾਂ ਦੀ ਜਾਣਕਾਰੀ ਦਿਓ।

10+10

Q.2(a) Please write down the rules regarding grant of Commuted leave to PSPCL employees.

(b) What are the conditions regarding service qualifying for pension under CSR Vol.2

(c) Determine the date of joining at new posting station of Mr. X working as Store Keeper at Central Store, Ludhiana, transferred to Amritsar. He was relieved on 27.4.2015 AN and was having charge of 200 items at his present posting station.

5+10+5

(ਉ) ਪੀ.ਐਸ.ਪੀ.ਸੀ.ਐਲ. ਦੇ ਕਰਮਚਾਰੀਆਂ ਨੂੰ ਕਮਿਊਟਡ ਛੁੱਟੀ ਮੰਨਚੂਰ ਕਰਨ ਸਬੰਧੀ ਕੀ ਹਦਾਇਤਾਂ ਹਨ, ਵਿਸਥਾਰ ਪੂਰਵਕ ਦੱਸਿਆ ਜਾਵੇ।

(ਅ) ਸੀ.ਐਸ.ਆਰ. ਜਿਲਦ-2 ਅਨੁਸਾਰ ਸੇਵਾ ਨੂੰ ਪੰਨਸਨ ਲਈ ਗਿਣਨ ਦੀਆਂ ਕੀ ਸ਼ਰਤਾਂ ਹਨ, ਉਹਨਾਂ ਦੀ ਵਿਆਖਿਆ ਕਰੋ।

(ੲ) ਸ਼੍ਰੀਮਾਨ 'ਏ' ਸੈਂਟਰਲ ਸਟੋਰ, ਲੁਧਿਆਣਾ ਵਿਖੇ ਥੱਤਰ ਸਟੋਰ ਕੀਪਰ ਕੰਮ ਕਰਦਾ ਸੀ। ਉਸਦੀ ਬਦਲੀ ਸ਼੍ਰੀ ਆੰਮ੍ਰਿਤਸਰ ਸਾਹਿਬ ਵੀ ਹੋ ਜਾਣ ਕਾਰਨ ਉਹ ਮਿਤੀ 27.4.2015 ਨੂੰ ਬਾਅਦ ਦੁਪਿਹਰ ਅਪਣੀ ਡਿਊਟੀ ਤੋਂ ਫਾਰਗ ਹੋ ਗਿਆ। ਸੈਂਟਰਲ ਸਟੋਰ ਲੁਧਿਆਣਾ ਵਿਖੇ ਕੰਮ ਕਰਦੇ ਸਮੇਂ ਉਸ ਕੋਲ 200(ਦੋ ਸੌ) ਆਈਟਮਾਂ ਦਾ ਚਾਰਜ ਸੀ। ਉਸਦੀ ਬਦਲੀ ਹੋਏ ਅਗਲੇ ਸਟੇਸ਼ਨ ਤੇ ਜੁਆਇਨ ਕਰਨ ਦੀ ਮਿਤੀ ਦਾ ਹਿਸਾਬ ਕੱਢਿਆ ਜਾਵੇ।

5+10+5

ਚੌਥਾ ਪ੍ਰਸ਼ਨ

2

Q.3(a) Calculate the amount of pension and gratuity from the following data :

Date of Retirement	31.12.2014
Date of Appointment	02.12.1985
Extra ordinary leave	11.1.90 to 25.4.90
Non Duty Period	3.3.1995 to 18.3.95
Basic Pay as on 1.1.2014	26580
Next Date of increment	1.6.2014

(b) What is the provision regarding the submission of property return of different categories of employees.

10+10

(ੳ) ਹੇਠ ਲਿਖੇ ਵੇਰਵਿਆਂ ਤੋਂ ਪੈਨਸ਼ਨ ਅਤੇ ਗਰੈਚੁਟੀ ਦੀ ਰਕਮ ਦਾ ਹਿਸਾਬ ਲਗਾਇਆ ਜਾਵੇ :-

ਰਿਟਾਇਰਮੈਂਟ ਦੀ ਮਿਤੀ	31.12.2014
ਸੇਵਾ ਵਿਚ ਹਾਜ਼ਰ ਹੋਣ ਦੀ ਮਿਤੀ	02.12.1985
ਅਸਧਾਰਣ ਛੁੱਟੀ	11.1.90 ਤੋਂ 25.4.90
ਨਾਨ ਡਿਊਟੀ ਸਮਾਂ	3.3.95 ਤੋਂ 18.3.95
ਮੂਲ ਤਨਖਾਹ ਮਿਤੀ 1.1.2014 ਨੂੰ	26580-ਰੁ
ਅਗਲੀ ਸਲਾਨਾ ਤਰੱਕੀ ਦੀ ਮਿਤੀ	1.6.2014

(ਅ) ਵੱਖ ਵੱਖ ਕੈਟਾਗਰੀ ਦੇ ਕਰਮਚਾਰੀਆਂ ਲਈ ਚੱਲ/ਅਚੱਲ ਸੰਪਤੀ ਦੇ ਵੇਰਵੇ/ਸੂਚਨਾ ਪੇਸ਼ ਕਰਨ ਸਬੰਧੀ ਨਿਯਮ (ਦਿਸ਼ਾ ਨਿਰਦੇਸ਼) ਦੀ ਜਾਣਕਾਰੀ ਦਿਓ।

10+10

Q.4(a) Please write down the Gradation of different categories of employees for the purpose of TA and LTC.

(b) Prepare TA Bill of an employee from the following data :

Head Quarter	Ludhiana
Basic Pay	22500
Grade Pay	5200

Detail of Journeys under taken by the employee for official work during the month of Jan.2015

- Travelled to Patiala by Ordinary Bus on 1st, Jan, 2015 at 7.00 am and returned to headquarter at 8.00 pm on the same day. Local mileage KM Ludhiana (5+5) and Patiala (3+3), Fare Rs.150/-
- Travelled to Amritsar by Ordinary Bus on 13th of the month at 8.00 am and returned to headquarter at 4.00 pm on the next day. Local Mileage KM Ludhiana (5+5), Amritsar (4+4), Fare Rs.200/-
- Travelled to Chandigarh by AC Bus on 20th of the month at 6.30am and returned to head quarter at 8.30 pm on the same day. Local Mileage KM Chandigarh (6+6) ,Ludhiana (5+5), AC Fare 400/- Ordinary Fare 200

5+15

(ੳ) ਵੱਖ ਵੱਖ ਕੈਟਾਗਰੀ ਦੇ ਕਰਮਚਾਰੀਆਂ ਦਾ ਟੀ.ਏ. ਅਤੇ ਐਲ.ਟੀ.ਸੀ. ਦੇ ਉਦੇਸ਼ ਲਈ ਵਰਗੀਕਰਨ ਕੀਤਾ ਜਾਵੇ।

(ਅ) ਹੇਠ ਲਿਖੇ ਵੇਰਵਿਆਂ ਤੋਂ ਕਰਮਚਾਰੀ ਦਾ ਟੀ.ਏ. ਬਿੱਲ ਤਿਆਰ ਕੀਤਾ ਜਾਵੇ।

ਹੈਡ ਕੁਆਟਰ	ਲੁਧਿਆਣਾ
ਮੂਲ ਤਨਖਾਹ	22500
ਗਰੇਡ ਪੇਅ	5200

ਕਰਮਚਾਰੀ ਨੇ ਦਫਤਰੀ ਕੰਮ ਲਈ ਮਹੀਨਾ ਜਨਵਰੀ 2015 ਦੌਰਾਨ ਹੇਠ ਲਿਖੇ ਅਨੁਸਾਰ ਸਫਰ ਕੀਤਾ।

(1) ਪਹਿਲੀ ਤਾਰੀਖ ਨੂੰ ਸਧਾਰਨ ਬਸ ਰਾਹੀਂ ਸਵੇਰੇ 7.00 ਵਜੇ ਪਟਿਆਲਾ ਗਿਆ ਅਤੇ ਰਾਤ 8.00 ਵਜੇ ਉਸੇ ਦਿਨ ਹੈਡਕੁਆਟਰ ਵਾਪਿਸ ਪਹੁੰਚ ਗਿਆ। ਲੋਕਲ ਦੂਰੀ (ਕਿਲੋ ਮੀਟਰ) ਪਟਿਆਲਾ (3+3), ਲੁਧਿਆਣਾ (5+5), ਬਸ ਕਰਾਇਆ 150/-

(2) 13 ਤਾਰੀਖ ਨੂੰ ਸਧਾਰਨ ਬਸ ਰਾਹੀਂ ਸਵੇਰੇ 8.00 ਵਜੇ ਸ੍ਰੀ ਅੰਮ੍ਰਿਤਸਰ ਗਿਆ ਅਤੇ ਅਗਲੇ ਦਿਨ ਸਾਮ ਨੂੰ 4.00 ਵਜੇ ਵਾਪਿਸ ਹੈਡ ਕੁਆਟਰ ਪਹੁੰਚ ਗਿਆ। ਲੋਕਲ ਦੂਰੀ (ਕਿਲੋ ਮੀਟਰ) ਅੰਮ੍ਰਿਤਸਰ ਸਾਹਿਬ (4+4), ਲੁਧਿਆਣਾ (5+5), ਬਸ ਕਰਾਇਆ 200/-

(3) 20 ਤਾਰੀਖ ਨੂੰ ਏ.ਸੀ. ਬੱਸ ਰਾਹੀਂ ਸਵੇਰੇ 6.30 ਵਜੇ ਚੰਡੀਗੜ੍ਹ ਗਿਆ ਅਤੇ ਰਾਤ ਨੂੰ 8.30 ਵਜੇ ਉਸੇ ਦਿਨ ਹੈਡ ਕੁਆਟਰ ਤੋਂ ਵਾਪਿਸ ਪਹੁੰਚ ਗਿਆ। ਲੋਕਲ ਦੂਰੀ (ਕਿਲੋ ਮੀਟਰ) ਚੰਡੀਗੜ੍ਹ (6+6) ਲੁਧਿਆਣਾ (5+5), ਏਸੀ ਬੱਸ ਕਰਾਇਆ 400/-, ਸਧਾਰਨ ਬੱਸ ਕਰਾਇਆ 200/-

5+15

Q.5a) What are the powers of different authorities to accept the tender for execution of work by contract.

(b) What do you mean by prescribed authority as per Employees Conduct Regulation.

(c) What is the meaning of "Family" and " Emoluments" as per Employees Provident Fund Regulations.

5+5+10


(ੳ) ਕੰਟਰੈਕਟ ਦੇ ਅਧਾਰ ਤੇ ਕੰਮ ਕਰਵਾਉਣ ਦੇ ਟੈਂਡਰ ਮਨਜ਼ੂਰ ਕਰਨ ਹਿੱਤ ਵੱਖ ਵੱਖ ਅਧਿਕਾਰੀਆਂ ਦੀਆਂ ਸਮਰਥਾ ਦਾ ਵਰਗੀਕਰਨ ਕੀਤਾ ਜਾਵੇ।

(ਅ) ਕਰਮਚਾਰੀ ਵਿਵਹਾਰ ਕੰਡਕਟ ਰੈਗੂਲੇਸ਼ਨ ਅਨੁਸਾਰ ਪ੍ਰੋਜੈਕਟ ਈਥਿਕਸ ਅਥਾਰਟੀ ਤੋਂ ਕੀ ਭਾਵ ਹੈ।

(ੲ) ਇੰਸਪੈਕਟਰ ਪ੍ਰਾਵੀਡੈਂਟ ਫੰਡ ਅਨੁਸਾਰ 'ਫੈਮਿਲੀ' ਅਤੇ 'ਇਮਪਲੁਮੈਂਟਸ' ਤੋਂ ਕੀ ਭਾਵ ਹੈ।

5+5+10

Roll No. _____



Time allowed: 3 Hours

Max.Marks100

Note

- 1) Attempt all the questions and part of a question must be attempted continuously at one place.
- 2) Rough work should be done on the space provided for in the answer sheet at Page-2.
- 3) Missing data, if any, be assumed but must be indicated specifically in the answer.



PAPER -III
(REVENUE ACCOUNTS)

Roll No.

Time allowed: Three Hours

Max.Marks:100

Note:


- Attempt all the questions and part of a question must be attempted continuously at one place.
- Support your answer with relevant rules and regulations.
- Rough work should be done on the space provided for in the answer sheet at Page-2.
- Missing data if any may be assumed but must be indicated specifically in the answer.

Q.No.	Question	Marks												
1.	<p>a) Prepare electricity bill of Large Supply connection falling out of Municipal Limit from the following data for the month of December,2014 along with due dates for payment and applicable late payment surcharge taking bill issue date 11.01.2015:-</p> <p>i) Sanctioned load : 189.967KW/Contract Demand: 212 KVA</p> <p>ii) Supply voltage : 11KV</p> <p>iii) Nature of Industry: General Industry</p> <p>iii) Consumptions:</p> <table style="margin-left: 40px;"> <tr> <td>KWH</td><td>31164</td></tr> <tr> <td>KVAH</td><td>31804</td></tr> <tr> <td>MDI</td><td>126.08KVA</td></tr> </table> <p>v) Meter Rent: Rs.469/- p.m.</p> <p>vi) Other charges as per instructions/rules.</p> <p>1 (ਉ) ਮਿਊਨਿਸਪਲ ਸੀਮਾ ਤੋਂ ਬਾਹਰ ਹੋਏ ਲਾਰਜ ਸਪਲਾਈ ਖਪਤਕਾਰ ਦਾ ਮਹੀਨਾ ਦਸਤਾਵੇਜ਼ 2014 ਦਾ ਬਿੱਲ . ਬਿੱਲ ਨਾਲੀ ਕਰਨ ਦੀ ਮਿਤੀ 11 ਜਨਵਰੀ 2015 ਮੌਜੂਦਾ ਹੋਏ ਬਣਦੀ ਡਿਊ ਡੇਟ ਅਤੇ ਲੇਟ ਪੇਮੈਂਟ ਸਰਚਾਰਜ ਸਮੇਤ ਹੇਠ ਲਿਖੇ ਡਾਟੇ ਅਨੁਸਾਰ ਤਿਆਰ ਕੀਤਾ ਜਾਵੇ:-</p> <p>1. ਮੌਨਜ਼ਰ ਡਾਟਾ : 189.967 ਕਿਲੋ ਵਾਟ/ਕੰਟਰੈਕਟ ਡਿਮਾਂਡ :212ਕੇ.ਵੀ.ਏ.</p> <p>2. ਸਪਲਾਈ ਦੀ ਕਿਸਮ: 11 ਕੇ.ਵੀ.</p> <p>3. ਉਦਯੋਗ ਦੀ ਕਿਸਮ : ਜਨਰਲ</p> <p>4. ਖਪਤ:</p> <table style="margin-left: 40px;"> <tr> <td>ਕੇ.ਫਲਾਸ਼ਨ, ਐਚ.</td><td>31164</td></tr> <tr> <td>ਕੇ.ਵੀ.ਏ.ਐਚ.</td><td>31804</td></tr> <tr> <td>ਐਮ.ਡੀ.ਆਈ.</td><td>126.08 ਕੇ.ਵੀ.ਏ.</td></tr> </table> <p>5. ਮੀਟਰ ਦਾ ਕਿਰਾਇਆ: 469 ਪ੍ਰਤੀ ਮਹੀਨਾ</p> <p>6. ਹੋਰ ਖਰਚੇ ਹਦਾਇਤ/ਨਿਯਮਾਂ ਅਨੁਸਾਰ।</p>	KWH	31164	KVAH	31804	MDI	126.08KVA	ਕੇ.ਫਲਾਸ਼ਨ, ਐਚ.	31164	ਕੇ.ਵੀ.ਏ.ਐਚ.	31804	ਐਮ.ਡੀ.ਆਈ.	126.08 ਕੇ.ਵੀ.ਏ.	10
KWH	31164													
KVAH	31804													
MDI	126.08KVA													
ਕੇ.ਫਲਾਸ਼ਨ, ਐਚ.	31164													
ਕੇ.ਵੀ.ਏ.ਐਚ.	31804													
ਐਮ.ਡੀ.ਆਈ.	126.08 ਕੇ.ਵੀ.ਏ.													
1.	<p>b) Prepare electricity bill of Small Power Consumer living within Municipal Limit from the following data for the month of December,2014 along with due dates for payment and applicable late payment surcharge taking bill issue date 2.01.2015:-</p> <p>i) Sanctioned load : 19500KW</p> <p>ii) Date of release of connection, April 2014</p> <p>iii) Nature of Industry: General Industry</p> <p>iii) Consumptions:</p> <table style="margin-left: 40px;"> <tr> <td>KWH</td><td>2200</td></tr> <tr> <td>KVAH</td><td>2500</td></tr> <tr> <td>MDI</td><td>18KVA</td></tr> </table> <p>v) PSPCL's Meter particulars: Avon 3x10-60 Amp. Installed in PSPCL cup board.</p> <p>vi) Meter Rent and Other charges as per instructions/rules.</p> <p>1 (ਉ) ਮਿਊਨਿਸਪਲ ਸੀਮਾ ਤੋਂ ਅੰਦਰ ਹੋਏ ਸਮਲ ਪਾਵਰ ਖਪਤਕਾਰ ਦਾ ਮਹੀਨਾ ਦਸਤਾਵੇਜ਼ 2014 ਦਾ ਬਿੱਲ . ਬਿੱਲ ਨਾਲੀ ਕਰਨ ਦੀ ਮਿਤੀ 02 ਜਨਵਰੀ 2015 ਮੌਜੂਦਾ ਹੋਏ ਬਣਦੀ ਡਿਊ ਡੇਟ ਅਤੇ ਲੇਟ ਪੇਮੈਂਟ ਸਰਚਾਰਜ ਸਮੇਤ ਹੇਠ ਲਿਖੇ ਡਾਟੇ ਅਨੁਸਾਰ ਤਿਆਰ ਕੀਤਾ ਜਾਵੇ:-</p> <p>1. ਮੌਨਜ਼ਰ ਡਾਟਾ : 19500 ਕਿਲੋ ਵਾਟ</p> <p>2. ਕਨੈਕਸ਼ਨ ਨਾਲੀ ਹੋਣ ਦੀ ਮਿਤੀ: ਅਪਰੈਲ 2014</p>	KWH	2200	KVAH	2500	MDI	18KVA	10						
KWH	2200													
KVAH	2500													
MDI	18KVA													

	<p>3. ਉਦਯੋਗ ਦੀ ਕਿਸਮ : ਜਨਰਲ</p> <p>4. ਖਪਤ:</p> <table><tr><td>ਕੇ.ਭਬਲਪੂ. ਐਚ.</td><td>2200</td></tr><tr><td>ਕੇ.ਵੀ.ਏ.ਐਚ.</td><td>2500</td></tr><tr><td>ਐਮ.ਡੀ.ਆਈ.</td><td>18 ਕੇ.ਵੀ.ਏ.</td></tr></table> <p>5. ਮਹਿਕਮੇ ਵੱਲੋਂ ਲਗਾਏ ਗਏ ਮੀਟਰ ਵੇਰਵੇ: ਮੋਡ ਏਵਨ 3 x 10 -60 ਐਮਪੇਅਰਜ਼ ਹੋ ਕਿ ਮਹਿਕਮੇ ਦੇ ਮੀਟਰ ਬਕਸੇ ਵਿੱਚ ਲੱਗਾ ਹੈ।</p> <p>6. ਮੀਟਰ ਕਿਰਾਇਆ ਅਤੇ ਬਾਕੀ ਹੋਰ ਖਰਚੇ ਹਦਾਇਤਾਂ/ਨਿਯਮਾਂ ਅਨੁਸਾਰ।</p>	ਕੇ.ਭਬਲਪੂ. ਐਚ.	2200	ਕੇ.ਵੀ.ਏ.ਐਚ.	2500	ਐਮ.ਡੀ.ਆਈ.	18 ਕੇ.ਵੀ.ਏ.																																								
ਕੇ.ਭਬਲਪੂ. ਐਚ.	2200																																														
ਕੇ.ਵੀ.ਏ.ਐਚ.	2500																																														
ਐਮ.ਡੀ.ਆਈ.	18 ਕੇ.ਵੀ.ਏ.																																														
2.	<p>a) M/S A&A Limited has opted for TOD tariff applicable for the period 1.10.14 to 31.03.15 its consumption data for the period 25.10.14 to 27.10.14 is given as under calculate the amount of TOD rebate and peak charges applicable for consumption(KVAH):-</p> <table><tr><th>Date</th><th>Power drawn</th><th colspan="3">Time slab</th></tr><tr><th></th><th></th><th>0000 to 0600hrs 2200 to 2400hrs</th><th>0600to1800hrs</th><th>1800to2200hrs</th></tr><tr><td>25.10.14</td><td>23820</td><td>10120</td><td>12460</td><td>1240</td></tr><tr><td>26.10.14</td><td>34800</td><td>9560</td><td>24300</td><td>940</td></tr><tr><td>27.10.14</td><td>32360</td><td>8744</td><td>22872</td><td>744</td></tr></table> <p>ਮੈ/ਸ ਏ.ਐਡ ਏ. ਲਿਮਟਿਡ ਵੱਲੋਂ 1.10.14 ਤੋਂ 31.03.15 ਤੱਕ ਟੀ.ਓ.ਡੀ. ਟੈਰਿਫ ਲਾਗੂ ਲਈ ਆਪਸ਼ਨ ਦਿੱਤੀ ਹੈ ਖਪਤਕਾਰ ਦੀ 25.10.14 ਤੋਂ 27.10.14 ਤੱਕ ਦੀ ਖਪਤ (ਕੇ.ਵੀ.ਏ.ਐਚ.ਵਿਚ) ਹੇਠ ਦਿੱਤੇ ਅਨੁਸਾਰ ਹੈ। ਖਪਤਕਾਰ ਨੂੰ ਡਿਸਕਨੈਕਟ ਟੀ.ਓ.ਡੀ. ਰਿਮਾਇੰਡ ਅਤੇ ਲੰਗਟੈਂਗ ਪੀਕ ਚਾਰਜਜ਼ ਦੀ ਗਨਣਾ ਕੀਤੀ ਜਾਵੇ।</p> <p>ਮਿਤੀ ਖਾਵਰ ਦੀ ਕੀਤੀ ਟਾਈਮ ਸਲੈਬ</p> <table><tr><th></th><th></th><th>0000 to 0600hrs 2200 to 2400hrs</th><th>0600to1800hrs</th><th>1800to2200hrs</th></tr><tr><td>25.10.14</td><td>23820</td><td>10120</td><td>12460</td><td>1240</td></tr><tr><td>26.10.14</td><td>34800</td><td>9560</td><td>24300</td><td>940</td></tr><tr><td>27.10.14</td><td>32360</td><td>8744</td><td>22872</td><td>744</td></tr></table> <p>b) What are the latest instructions regarding late payment surcharge?</p> <p>ਅ: ਬਿਲ ਦੀ ਲੇਟ ਅਦਾਇਗੀ ਤੇ ਲੰਗਣ ਵਾਲੇ ਸਰਚਾਰਜ ਬਾਰੇ ਨਵੀਆਂ ਹਦਾਇਤਾਂ ਦਿੱਤੀਆਂ ਹਨ।</p> <p>c) Calculate units to be charged from a person who is found using unauthorized direct supply having connected load 6KW for domestic purpose.</p> <p>ਦ: ਘਰੇਲੂ ਵਰਤੋਂ ਲਈ 6 ਕਿਲੋਵਾਟ ਜੁੜੇ ਭਾਰ ਲਈ ਮਿਥੀ ਭਾਰ ਲਾ ਕੇ ਚੋਰੀ ਕਰਦੇ ਫੜੇ ਦੋਸ਼ੀ ਨੂੰ ਚਾਰਜ ਕਰਨ ਯੋਗ ਯੁਕਤਿ ਦਾ ਵੇਰਵਾ ਦਿੱਤਾ ਜਾਂਦਾ ਹੈ।</p>	Date	Power drawn	Time slab					0000 to 0600hrs 2200 to 2400hrs	0600to1800hrs	1800to2200hrs	25.10.14	23820	10120	12460	1240	26.10.14	34800	9560	24300	940	27.10.14	32360	8744	22872	744			0000 to 0600hrs 2200 to 2400hrs	0600to1800hrs	1800to2200hrs	25.10.14	23820	10120	12460	1240	26.10.14	34800	9560	24300	940	27.10.14	32360	8744	22872	744	8 4
Date	Power drawn	Time slab																																													
		0000 to 0600hrs 2200 to 2400hrs	0600to1800hrs	1800to2200hrs																																											
25.10.14	23820	10120	12460	1240																																											
26.10.14	34800	9560	24300	940																																											
27.10.14	32360	8744	22872	744																																											
		0000 to 0600hrs 2200 to 2400hrs	0600to1800hrs	1800to2200hrs																																											
25.10.14	23820	10120	12460	1240																																											
26.10.14	34800	9560	24300	940																																											
27.10.14	32360	8744	22872	744																																											
3	<p>a) Describe the officers who are authorized to issue orders (within their jurisdiction) for disconnection of supply where theft of electricity of prima-facie established.</p> <p>ੳ: ਬਿਜਲੀ ਚੋਰੀ ਸਾਬਤ ਹੋਣ ਤੇ ਕਿਹੜੇ ਅਫਸਰ ਬਿਜਲੀ ਕੁਨੈਕਸ਼ਨ ਕਟਣ ਦੇ ਹੁਕਮ ਜਾਰੀ ਕਰਨ ਲਈ ਅਧਿਕਾਰਤ ਹਨ।</p> <p>b) What are the rates and procedures calculating penalty for non compliance of peak load restrictions by LS consumer.</p> <p>ਅ: ਲਾਰਜ ਸਪਲਾਈ ਖਪਤਕਾਰ ਵੱਲੋਂ ਪੀਕ ਲੋਡ ਪੱਦਸ਼ਾ ਦੀ ਉਲੰਘਣਾ ਤੇ ਲੈਣ ਯੋਗ ਜੁਰਮਾਨੇ ਬਾਰੇ ਦੱਸੇ</p> <p>c) Describe the entitlement of the consumer to run a part of connected</p>	10 6 4																																													

	load/contract demand called restricted load without payment of additional charges.	
	<p>ੲ) ਪੀਕ ਲੋਡ ਬੰਦਸ਼ਾਂ ਦੌਰਾਨ ਖਪਤਕਾਰ ਨੂੰ ਬਿਨਾਂ ਕਿਸੇ ਵਾਧੂ ਅਦਾਇਗੀ ਕੀਤੇ ਵਰਤਣ ਯੋਗ ਰਿਸਟ੍ਰਿਕਟਡ ਲੋਡ ਬਾਰੇ ਦੱਸਿਆ ਜਾਵੇ।</p>	4
4.	<p>a) Discuss: levy of octroi on consumption of electricity.</p> <p>ੲ) ਬਿਜਲੀ ਖਪਤ ਤੇ ਲੱਗਣ ਵਾਲੀ ਚੁੰਗੀ ਬਾਰੇ ਦੱਸਿਆ ਜਾਵੇ?</p> <p>b) Who is Competent to allow the payment in installment of</p> <ol style="list-style-type: none"> 1) Arrear not originally billed 2) Current bills. <p>ਅ) ਹੇਠ ਲਿਖੇ ਕੇਸਾਂ ਵਿਚ ਅਦਾਇਗੀ ਲਈ ਕਿਸਤਾਂ ਕਰਨ ਲਈ ਕੌਣ ਅਧਿਕਾਰਤ ਹੈ?</p> <ol style="list-style-type: none"> 1) ਬਿੱਲ ਦਾ ਬਕਾਇਆ ਜਿਸ ਦੀ ਪਹਿਲਾਂ ਬਿਲਿੰਗ ਨਾ ਹੋਈ ਹੋਵੇ। 2) ਚਾਲੂ ਬਿੱਲ। <p>c) Describe the instructions regarding Change of name before actual release of AP tubewell connection.</p> <p>ੲ) ਖੇਤੀਬਾੜੀ ਖਪਤਕਾਰ ਦਾ ਕੁਨੈਕਸ਼ਨ ਜਾਰੀ ਹੋਣ ਤੋਂ ਪਹਿਲਾਂ ਨਾਂ ਬਦਲੀ ਸਬੰਧੀ ਹਦਾਇਤਾਂ ਦਾ ਵਰਨਣ ਕਰੋ।</p> <p>d) Who is the load sanction authority in the following cases:-</p> <ol style="list-style-type: none"> 1) For MS connection. 2) For LS connection of 500 KW 3) For Intensive Industrial connection of 2.5 MVA 4) For Industrial of 1500 KVA at HT supply. 5) For domestic connection of 10 KW <p>ਸ) ਹੇਠ ਲਿਖੇ ਕੇਸਾਂ ਵਿਚ ਲੋਡ ਮੰਨਜ਼ੂਰ ਕਰਨ ਲਈ ਅਧਿਕਾਰਤ ਅਧਿਕਾਰੀ ਬਾਰੇ ਦੱਸੋ?</p> <ol style="list-style-type: none"> 1) ਐਮ.ਐਸ. ਕੁਨੈਕਸ਼ਨ। 2) 500 ਕਿਲੋਵਾਟ ਦੇ ਐਲ.ਐਸ. ਕੁਨੈਕਸ਼ਨ। 3) 2.5 ਐਮ.ਵੀ.ਏ ਦੇ ਇਨਟੈਂਸਿਵ ਉਦਯੋਗਿਕ ਕੁਨੈਕਸ਼ਨ ਲਈ। 4) 1500 ਕੇ.ਵੀ.ਏ ਦਾ ਐਚ.ਟੀ ਸਪਲਾਈ ਤੇ ਉਦਯੋਗਿਕ ਕੁਨੈਕਸ਼ਨ ਲਈ। 5) 10 ਕਿਲੋਵਾਟ ਦੇ ਘਰੇਲੂ ਕੁਨੈਕਸ਼ਨ ਲਈ। 	<p>5</p> <p>3+2</p> <p>5</p>
5.	<p>a) Describe the instructions regarding:-</p> <ol style="list-style-type: none"> i) Validity of Demand Notice period. ii) Extension of Demand Notice period. iii) Revival of cancelled AP application. <p>ੲ) ਹੇਠ ਲਿਖੇ ਬਾਰੇ ਤਾਜੀਆਂ ਹਦਾਇਤਾਂ ਦੱਸੀਆਂ ਜਾਣ:-</p> <ol style="list-style-type: none"> 1) ਮੰਗ ਨੋਟਿਸ ਦੀ ਮਿਆਦ 2) ਮੰਗ ਨੋਟਿਸ ਦੀ ਮਿਆਦ ਵਿਚ ਵਾਧਾ। 3) ਰੱਦ ਕੀਤੇ ਖੇਤੀਬਾੜੀ ਕੁਨੈਕਸ਼ਨ ਲਈ ਬਿਨੈਪੱਤਰ ਨੂੰ ਮੁੜ ਸੁਰਜੀਤ ਕਰਨ ਬਾਰੇ। <p>b) Discuss Annual Minimum Charges under Street light category</p> <p>ਅ) ਸਟਰੀਟ ਲਾਈਟ ਕੈਟਾਗਰੀ ਤੇ ਸਲਾਨਾ ਘੱਟੋ-ਘੱਟ ਖਰਚਿਆਂ ਬਾਰੇ ਟਿੱਪਣੀ ਕਰੋ।</p>	<p>5-5+5</p> <p>5</p>

Roll No. _____



Time allowed: 3 Hours

Max.Marks100

Note

- 1) Attempt all the questions and part of a question must be attempted continuously at one place.
- 2) Rough work should be done on the space provided for in the answer sheet at Page-2.
- 3) Missing data, if any, be assumed but must be indicated specifically in the answer.



MINISTERIAL ESTT. (GENERAL) PAPER-4 BOOK KEEPING & ACCOUNTANCY			Marks
Ques.: 1	1(a)	Why is it necessary to provide depreciation? ਮੁੱਲ ਵਿੱਚ ਕਮੀ ਦੀ ਵਿਵਸਥਾ ਕਰਨੀ ਕਿਉਂ ਜ਼ਰੂਰੀ ਹੈ?	10
	1(b)	On 1 st April, 2010, a firm purchases machinery worth Rs. 1,50,000. On 1 st October, 2012, it buys additional machinery worth Rs. 30,000 and spends Rs. 3,000 on its erection. The accounts are closed each year on 31 st March. Assuming the annual depreciation to be 10 %, show the book value at the end of 31 st March, 2015, with suitable workings under:- 1) Straight Line Method; and 2) Written Down Value Method. 1 ਅਪ੍ਰੈਲ, 2010 ਨੂੰ ਇੱਕ ਫਰਮ ਨੇ 1,50,000/- ਰੁਪਏ ਦੀ ਮਸ਼ੀਨਰੀ ਖਰੀਦੀ। 1 ਅਕਤੂਬਰ, 2012 ਨੂੰ 30,000/- ਰੁਪਏ ਦੀ ਵਾਧੂ ਮਸ਼ੀਨਰੀ ਖਰੀਦੀ ਅਤੇ 3000/- ਰੁਪਏ ਨਿਰਮਾਣ ਤੇ ਖਰਚ ਕੀਤੇ ਗਏ। ਖਾਤਾ ਹਰ ਸਾਲ 31 ਮਾਰਚ ਨੂੰ ਬੰਦ ਕੀਤਾ ਜਾਂਦਾ ਹੈ। ਜੇਕਰ ਸਲਾਨਾ ਘਸਾਈ 10% ਹੈ ਤਾਂ ਲੇਖਿਆਂ ਵਿੱਚ 31.3.2015 ਨੂੰ ਕੀ ਕੀਮਤ ਹੋਵੇਗੀ, ਸਮੇਤ ਵਰਕਿੰਗ ਨੋਟਸ ਹੇਠ ਲਿਖੀਆਂ ਵਿਧੀਆਂ ਅਨੁਸਾਰ ਦਰਸਾਏ ਜਾਣ: 1) ਸਟਰੇਟ ਲਾਈਨ ਮੈਥਡ 2) ਰਿਟਨ ਡਾਊਨ ਵੈਲਯੂ ਮੈਥਡ	10
Ques.: 2		On 31 st March, 2015, the Cash Book of M/s Thin & Short showed a balance of Rs. 2,760 at Bank. They had sent cheques amounting to Rs. 90,000 to the bank before 31 st March, 2015, but it appears from the Pass book that cheques worth only Rs. 84,000 had been credited before that date. Similarly, out of cheques for Rs. 85,000 issued during the month of March, 2015 cheques for Rs. 2,500 were presented in April, 2015, the remaining having been paid in March itself. The Pass Book also showed the following payments:- a) Rs. 3,320 premium (on the joint life policy) according to standing instructions; and b) Rs. 5,000 against a promissory note, as per instructions. The Pass Book showed that the bank had collected Rs. 6,000 as interest on Government Securities. The Bank had charged interest Rs. 50 and bank charges Rs. 20. There was no entry in the Cash Book for the payments, receipts, interest, etc.. It was found that the total to the credit Bank column in the Cash Book on 20 th March, 2015 was Rs. 110 short. Prepare the Bank Reconciliation Statement as on 31 st March, 2015. ਮੈਸ. ਥਿਨ ਅਤੇ ਸ਼ਾਰਟ ਦੀ ਕੈਸ਼ ਬੁੱਕ 31.3.2015 ਨੂੰ 2760/- ਰੁਪਏ ਬਕਾਇਆ ਦਰਸਾ ਰਹੀ ਸੀ। ਉਨ੍ਹਾਂ ਨੇ 31.3.2015 ਤੋਂ ਪਹਿਲਾਂ ਬੈਂਕ ਵਿੱਚ 90,000/- ਰੁਪਏ ਦੇ ਚੈੱਕ ਜਮ੍ਹਾਂ ਕਰਵਾਉਣ ਲਈ ਭੇਜੇ ਸੀ, ਜਿਨ੍ਹਾਂ ਵਿੱਚੋਂ 84,000/- ਰੁਪਏ ਦੇ ਚੈੱਕ ਬੈਂਕ ਵੱਲੋਂ ਕਰੈਡਿਟ ਕੀਤੇ ਗਏ। ਇਸੇ ਤਰ੍ਹਾਂ 85000/- ਰੁਪਏ ਦੇ ਚੈੱਕ ਖਰਚਿਆਂ ਲਈ ਜਾਰੀ ਕੀਤੇ ਸਨ ਤਾਂ ਉਨ੍ਹਾਂ ਵਿੱਚੋਂ 2500/- ਰੁਪਏ ਦੇ ਚੈੱਕ ਅਪ੍ਰੈਲ, 2015 ਵਿੱਚ ਡੇਬਿਟ ਕੀਤੇ ਗਏ, ਬਾਕੀ ਦੇ ਮਾਰਚ ਵਿੱਚ ਹੀ	20

		<p>ਕਲੀਅਰ ਕੀਤੇ ਗਏ। ਬੈਂਕ ਦੀ ਪਾਸ ਬੁੱਕ ਹੇਠ ਲਿਖੇ ਖਰਚੇ ਦਰਸਾ ਰਹੀ ਹੈ:-</p> <p>a) 3320/- ਰੁਪਏ ਦੀ ਸੰਯੁਕਤ ਬੀਮਾ ਪਾਲਿਸੀ ਦੀ ਅਦਾਇਗੀ ਪਹਿਲਾਂ ਦੀ ਹਦਾਇਤਾਂ ਅਨੁਸਾਰ ਹੈ ਅਤੇ</p> <p>b) 5000/- ਰੁਪਏ ਦੀ ਪਰੋਮਿਜ਼ਰੀ ਨੋਟ ਦੀ ਅਦਾਇਗੀ।</p> <p>ਪਾਸ ਬੁੱਕ ਨੇ ਇਹ ਵੀ ਦਰਸਾਇਆ ਕਿ ਬੈਂਕ ਨੇ 6000/- ਰੁਪਏ ਦਾ ਵਿਆਜ ਸਰਕਾਰੀ ਸਕਿਊਰਟੀਆਂ ਤੋਂ ਪ੍ਰਾਪਤ ਕੀਤਾ। ਬੈਂਕ ਨੇ 50/- ਰੁਪਏ ਦਾ ਵਿਆਜ ਅਤੇ ਬੈਂਕ ਚਾਰਜਿਜ਼ ਦੇ 20/- ਰੁਪਏ ਚਾਰਜ ਕੀਤੇ। ਕੈਸ਼ ਬੁੱਕ ਵਿੱਚ ਇਨ੍ਹਾਂ ਦਾ ਕੋਈ ਇੰਦਰਾਜ਼ ਨਹੀਂ ਕੀਤਾ ਗਿਆ।</p> <p>ਇਹ ਵੀ ਦੇਖਿਆ ਗਿਆ ਕਿ ਕੈਸ਼ ਬੁੱਕ ਦਾ ਕਰੈਡਿਟ ਬੈਂਕ ਕਾਲਮਾਂ ਵਿੱਚ 20.3.2015 ਨੂੰ 110/- ਰੁਪਏ ਘੱਟ ਸੀ।</p> <p>31.3.2015 ਨੂੰ ਬੈਂਕ ਰੀਕੰਸੀਲੇਸ਼ਨ ਸਾਰਣੀ ਬਣਾਓ।</p>	
Ques.: 3	3(a)	Distinguish between Errors of Omission & Errors of Commission. ਐਰਰਸ ਆਫ ਓਮਿਸ਼ਨ ਅਤੇ ਐਰਰਸ ਆਫ ਕਮਿਸ਼ਨ ਵਿੱਚ ਫਰਕ ਦੱਸੋ।	10
	3 (b)	<p>M/s Nanda & Bose close their financial books on 31st March. Stock taking continues for two weeks after this date. In 2014-15 the value of the closing stock came to Rs. 1,05,000 without making adjustments for the following:-</p> <ol style="list-style-type: none"> 1) Purchases made during the two weeks after 31st March, 2015 were Rs. 5,000. 2) Sales made during two weeks amounted to Rs. 30,000. The firm makes a Gross Profit of 33 1/3% on sales. <p>Find out the value of the closing stock on 31st March, 2015.</p> <p>ਮੈਸਰਜ਼ ਨੰਦਾ ਅਤੇ ਬੋਸ ਆਪਣੀ ਵਿੱਤੀ ਕਿਤਾਬ 31 ਮਾਰਚ ਨੂੰ ਬੰਦ ਕਰਦੇ ਹਨ। ਇਸ ਮਿਤੀ ਤੋਂ ਬਾਅਦ ਸਟਾਕ 2 ਹਫ਼ਤੇ ਤੱਕ ਜਾਰੀ ਰਹਿੰਦਾ ਹੈ। ਸਾਲ 2014-15 ਵਿੱਚ ਹੇਠ ਲਿਖੀ ਅਡਜਸਟਮੈਂਟ ਤੋਂ ਬਿਨਾਂ ਕਲੋਜਿੰਗ ਸਟਾਕ ਦਾ ਮੁੱਲ 1,05,000/- ਰੁਪਏ ਹੈ:</p> <ol style="list-style-type: none"> 1) 31 ਮਾਰਚ, 2015 ਤੋਂ ਬਾਅਦ 2 ਹਫ਼ਤਿਆਂ ਦੇ ਅੰਦਰ 5000/- ਰੁਪਏ ਦੀ ਖਰੀਦਦਾਰੀ ਕੀਤੀ ਗਈ। 2) ਇਸੇ ਤਰ੍ਹਾਂ 2 ਹਫ਼ਤਿਆਂ ਦੇ ਅੰਦਰ 30000/- ਰੁਪਏ ਦੀ ਵਿਕਰੀ ਕੀਤੀ ਗਈ ਅਤੇ ਫਰਮ ਨੂੰ ਵਿਕਰੀ ਤੇ 33 1/3% ਦਾ ਕੁੱਲ ਲਾਭ ਹੋਇਆ। <p>31 ਮਾਰਚ, 2015 ਨੂੰ ਕਲੋਜਿੰਗ ਸਟਾਕ ਦਾ ਮੁੱਲ ਦੱਸੋ।</p>	10
Ques.: 4	4 (a)	<p>State which of the following items should be charged to capital and which to revenue:-</p> <ol style="list-style-type: none"> 1) Rs. 13,960 expended on dismantling, removing and reinstalling plant and machinery to a more convenient place. 2) Rs. 2,600 paid for removal of stock to new site. 3) Before removal to the new site a machine which stood in the books at Rs. 18,200 was found obsolete and sold as scrap for Rs. 6,000. A new machine was installed in its place at the new site at a cost of Rs. 32,000. 4) Rs. 2,200 paid for the erection of a new machine. 5) Rs. 25,000 paid on the renovation of the new factory. Rs. 4,500 spent as 	20

		<p>lawyer's fee to defend a suit claiming that the firm's factory site belonged to the plaintiff. The suit was not successful.</p> <p>6) A car engine's rings and pistons were changed at a cost of Rs. 7,500; this resulted in improvement of petrol consumption to 12 km. per litre; it had fallen from 15 km. to 8 km.</p> <p>7) A building constructed in 1980 at a cost of Rs. 5,00,000 was written down by 2015 to Rs. 1,50,000; then it was demolished and a new building with 25% extra space was constructed at a cost of Rs. 20,00,000, including Rs. 50,000 for demolishing the old building.</p> <p>ਹੇਠ ਲਿਖੀਆਂ ਆਈਟਮਾਂ ਵਿੱਚੋਂ ਕਿਹੜੀਆਂ ਪੂੰਜੀਗਤ ਅਤੇ ਕਿਹੜੀਆਂ ਰੈਵੀਨਿਊ ਖਰਚਿਆਂ ਨੂੰ ਚਾਰਜ ਹੁੰਦੀਆਂ ਹਨ:-</p> <ol style="list-style-type: none"> 1) ਪਲਾਂਟ ਅਤੇ ਮਸ਼ੀਨਰੀ ਨੂੰ ਉਥਾੜ ਕੇ ਕਿਸੇ ਹੋਰ ਸੁਵਿਧਾਜਨਕ ਖੇਤਰ ਤੇ ਲਿਜਾ ਕੇ ਸਥਾਪਿਤ ਕਰਨ ਤੇ 13960/- ਰੁਪਏ ਖਰਚ ਕੀਤੇ। 2) 2000/- ਰੁਪਏ ਸਟਾਕ ਨੂੰ ਨਵੀਂ ਸਾਈਟ ਤੇ ਲਿਜਾਉਣ ਲਈ ਖਰਚ ਕੀਤੇ। 3) ਨਵੀਂ ਸਾਈਟ ਤੇ ਲਿਜਾਉਣ ਤੋਂ ਪਹਿਲਾਂ ਇੱਕ ਮਸ਼ੀਨ ਦੀ ਕੀਮਤ ਝੁਕਸ ਵਿੱਚ 18200/-ਰੁਪਏ ਸੀ ਅਤੇ ਮਸ਼ੀਨਰੀ ਖਰਾਬ ਹੋਣ ਕਾਰਨ ਉਸ ਨੂੰ 6000/- ਰੁਪਏ ਵਿੱਚ ਵੇਚਿਆ ਗਿਆ। ਇੱਕ ਨਵੀਂ ਮਸ਼ੀਨ 32000/- ਰੁਪਏ ਵਿੱਚ ਨਵੀਂ ਸਾਈਟ ਤੇ ਸਥਾਪਿਤ ਕੀਤੀ। 4) ਨਵੀਂ ਮਸ਼ੀਨ ਦੇ ਨਿਰਮਾਣ ਤੇ 2200/- ਰੁਪਏ ਖਰਚ ਕੀਤੇ। 5) 25000/-ਰੁਪਏ ਨਵੀਂ ਫੈਕਟਰੀ ਦੀ ਨਵਨਿਰਮਾਣ ਤੇ ਲਗਾਏ ਗਏ। 4500/- ਰੁਪਏ ਵਕੀਲ ਨੂੰ ਫਰਮਾਂ ਦੀ ਫੈਕਟਰੀ ਸਾਈਟ ਦਾ ਕੇਸ ਲੜਨ ਲਈ ਦਿੱਤੇ ਗਏ। ਕੇਸ ਅਸਫਲ ਹੋ ਗਿਆ। 6) ਇੱਕ ਕਾਰ ਦੇ ਇੰਜਨ ਰਿਗਜ਼ ਅਤੇ ਪਿਸਟਮ 7500/- ਰੁਪਏ ਵਿੱਚ ਬਦਲੇ ਗਏ। ਇਸ ਨਾਲ ਪੈਟਰੋਲ ਦੀ ਖਪਤ ਵਿੱਚ 12 ਕਿਲੋਮੀਟਰ ਪ੍ਰਤੀ ਲੀਟਰ ਦੇ ਹਿਸਾਬ ਨਾਲ ਸੁਧਾਰ ਹੋਇਆ। ਇਹ 15 ਕਿਲੋਮੀਟਰ ਤੋਂ 8 ਕਿਲੋਮੀਟਰ ਰਹਿ ਗਿਆ। 7) ਸਾਲ 1980 ਵਿੱਚ 5 ਲੱਖ ਰੁਪਏ ਦੀ ਲਾਗਤ ਨਾਲ ਇੱਕ ਬਿਲਡਿੰਗ ਦਾ ਨਿਰਮਾਣ ਕੀਤਾ ਗਿਆ ਜਿਸ ਦੀ ਕੀਮਤ ਲੇਖਿਆਂ ਵਿੱਚ 1,50,000/-ਰੁਪਏ ਦੀ ਰਹਿ ਗਈ ਸੀ, ਨੂੰ ਢਾਹਿਆ ਗਿਆ ਅਤੇ 25% ਵੱਧ ਜਗ੍ਹਾ ਨਾਲ ਇੱਕ ਨਵੀਂ ਬਿਲਡਿੰਗ ਦੀ ਉਸਾਰੀ ਕੀਤੀ ਗਈ ਜਿਸ ਦੀ ਕੀਮਤ 20 ਲੱਖ ਰੁਪਏ ਹੈ ਜਿਸ ਵਿੱਚ ਪੁਰਾਣੀ ਬਿਲਡਿੰਗ ਨੂੰ ਢਾਹਣ ਦੀ ਕੀਮਤ 50,000/- ਰੁਪਏ ਵੀ ਸ਼ਾਮਲ ਹੈ। 	
Ques.: 5	5 (a)	What is the difference between an INPUT and OUTPUT device? ਇਨਪੁਟ ਅਤੇ ਆਊਟਪੁਟ ਡਿਵਾਈਸ ਵਿੱਚ ਕੀ ਫਰਕ ਹੈ?	10
	5 (b)	What is the Central Processor Unit? ਸੀ.ਪੀ.ਯੂ. ਕੀ ਹੁੰਦਾ ਹੈ?	5
	5 (c)	What is an opening entry? ਓਪਨਿੰਗ ਐਂਟਰੀ ਤੋਂ ਕੀ ਭਾਵ ਹੈ?	5